


Oddział Międzyuczelniany PTTK w Warszawie

Egzamin na Organizatora Turystyki OM PTTK – 08.04.2009 r.



Egzamin składa się z „wejściówki” (4 pytania) oraz 34 pytań pogrupowanych w 10 działów (łącznie 38 pytań). Punktacja dla poszczególnych pytań została przedstawiona obok.

Zaliczenie egzaminu polega na uzyskaniu:

- z „wejściówki” co najmniej 81 punktów – w przypadku uzyskania mniejszej liczby punktów praca nie będzie dalej sprawdzana,
- z działów, po co najmniej po 61 punktów.

Warunkiem dopuszczenia do ustnego egzaminu poprawkowego jest zdobycie po 61 punktów z przynajmniej 7 działów.

Życzymy powodzenia

Komisja Egzaminacyjna

wejściówka		
1		35
2		15
3		30
4		20
razem		100

architektura		
5		30
6		50
7		20
razem		100

budownictwo drewniane		
8		20
9		30
10		15
11		35
razem		100

etnografia		
12		43
13		36
14		21
razem		100

PTTK jako organizacja		
15		20
16		16

17		24
18		40
razem		100

historia turystyki		
19		32
20		28
21		40
razem		100

pierwsza pomoc		
22		48
23		20
24		32
Razem		100

geografia turystyczna polski		
25		36
26		40
27		10
28		14
razem		100

Ochrona przyrody		
29		30
30		46
31		12
32		12
razem		100

Zagadnienia prawne w turystyce		
33		47
34		30
35		23
razem		100

Terenoznawstwo		
36		42
37		16
38		42
razem		100

Wejściówka**Pytanie 1 [35 pkt.]**

a) Podaj prawa i obowiązki Organizatora Turystyki OM PTTK w Warszawie. [20 pkt.]

Prawa	Obowiązki

b) Podaj pełną nazwę (wraz z numerem) swojego Koła oraz nazwę Oddziału [15 pkt.]

Nazwa Koła	Nazwa Oddziału

Pytanie 2 [15 pkt.]

Podaj nazwy trzech odznak, które można weryfikować w Terenowym Referacie Weryfikacyjnym działającym przy Oddziale Międzyuczelnianym PTTK w Warszawie

--

Pytanie 3 [30 pkt.]

Podaj numery następujących telefonów alarmowych:

Straż Pożarna	
Policja	
Pogotowie Ratunkowe	

TOPR	
GOPR	
WOPR	

Pytanie 4 [20 pkt.]

Wyjaśnij następujące skróty:

PTTK	
TT	
TOPR	
PTK	

Architektura


Pytanie 5 [30 pkt.]



Opisz w 50 słowach obiekt przedstawiony na rysunku uwzględniając jego styl architektoniczny.

Pytanie 6 [50 pkt.]

Określ style obiektów przedstawionych na poniższych fotografiach i przybliżone daty budowy, opisz charakterystyczne cechy budowli wznoszonych na terenie Polski w tych okresach, podaj po jednym innym przykładzie obiektów reprezentujących te style

			
Styl [2 pkt]		Styl [2 pkt]	
Przybliżony czas powstania [3 pkt]		Przybliżony czas powstania [3 pkt]	
Cechy charakterystyczne [15 pkt]		Cechy charakterystyczne [15 pkt]	
Przykład [5 pkt]		Przykład [5 pkt]	

Pytanie 7 [20 pkt.]

Uszereguj rodzaje budowli i systemów obronnych od najwcześniejszych do najnowszych (wpisz odpowiednie numery od 1 do 5 w pustej rubryce)

	Twierdza fortowa
	Gród
	Rejon umocniony
	Twierdza bastionowa
	Zamek

Budownictwo drewniane**Pytanie 8 [20 pkt.]**

1	Bania	Część belek konstrukcyjnych ścian lub belek stropowych wystające poza zewnętrzne lico ściany budynku	
2	Gont	Część kościoła pełniąca funkcję przedsionka, najczęściej w formie przybudówki wyraźnie wyodrębnionej z bryły budynku.	
3	Izbica	Część kościoła przeznaczona dla duchowieństwa, w której centralne miejsce zajmuje ołtarz.	
4	Kruchta	Dodatkowa przestrzeń uzyskana w wyniku postawienia przy ścianach części mieszkalnej chałupy lekkich ścianek z desek, służąca głównie do przechowywania słomy, siana lub drewna i ocieplania budynku.	
5	Prezbiterium	Drewniana deseczka o przekroju klina, wykonana zazwyczaj z drewna iglastego, służąca do wykonywania pokryć dachowych lub pokryć ścian.	
6	Przyzba	Kopulaste zwieńczenie wieży w formie dachu hełmowego, kryte gontem lub blachą.	
7	Rysie	Najwyższa, nadwieszona kondygnacja w drewnianych wieżach, w której często umieszczano dzwony.	
8	Soboty	Niskie podcienia otaczające drewniane świątynie	
9	Strzecha	Pokrycie dachowe z trzciny (dawniej słomy) wykonywane na dachach tradycyjnych o dużym spadku.	
10	Zachata	Wał usypany z ziemi dokoła podmurówki wiejskiego domu, czasami pokryty deskami.	

Pytanie 9 [30 pkt.]

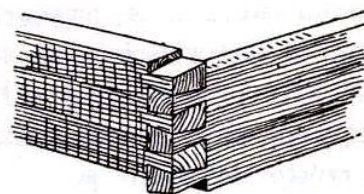
Z poniższej listy **wybierz 5 nazw** budynków gospodarczych i wyjaśnij w kilkunastu słowach do czego były wykorzystywane.

remiza, kuźnia, młyn, folusz, spichlerz, olejarnia, sypaniec, chlew

Pytanie 10 [15 pkt.] (test jednokrotnego wyboru)

1. Przedstawiona poniżej ilustracja przedstawia ścianę o konstrukcji:

- słupowo-ramowej
- sumikowo-łątkowej
- zrębowej



2. Przedstawiona poniżej ilustracja przedstawia więźbę dachową o konstrukcji:

- krokwiowej
- sochowo-ślemieniowej
- ślęgowej



3. Poniższa ilustracja przedstawia dach typu:

- brogowego
- dwuspadowego
- mansardowego



Pytanie 11 [35 pkt.]



Opisz w 50 słowach obiekt przedstawiony na rysunku uwzględniając jego konstrukcję.

Etnografia

Pytanie 12 [43 pkt.]

a) Wymień ustawowe mniejszości etniczne w Polsce [16 pkt.]

b) Wymień ustawowe mniejszości narodowe w Polsce [27 pkt.]

Pytanie 13 [36 pkt.] test jednokrotnego wyboru

Zaznacz prawidłowe odpowiedzi:

1. Narzędzie rolnicze służące do prac żniwnych to:

- a) cep b) sierp c) kijanka

2. Urządzenie (maszyna) do tworzenia (produkcji) tkanin:

- a) krosno b) łyżnik c) tokarka

3. Topienie Marzanny to zwyczaj związany z rozpoczęciem się:

- a) lata b) wiosny c) zimy

4. W tradycji polskiej przebierańcy, którzy w okresie bożonarodzeniowym chodzili po wsiach od domu do domu z życzeniami pomyślności w Nowym Roku to:

- a) bracia polscy b) kołędnicy c) żacy

5. Rymarz zajmuje się wyrobem przedmiotów:

- a) drewnianych b) metalowych c) skórzanych

6. Kaszubi w większości zamieszkują województwo:

- a) kujawsko-pomorskie b) pomorskie c) zachodniopomorskie

7. Głównym wyznaniem Łemków nie jest:

- a) grekokatolicyzm b) prawosławie c) protestantyzm

8. Językiem żydowskim nie jest język:

- a) arabski b) hebrajski c) jidysz

9. Większość Niemcy zamieszkuje w Polsce głównie w województwie:

- a) dolnośląskim b) opolskim c) śląskim

Pytanie 14 [21 pkt.] test jednokrotnego wyboru

1. Odlamem chrześcijaństwa nie jest:

- a) judaizm b) katolicyzm c) prawosławie

2. Baptyzm, kalwinizm, luteranizm, adwentyzm to odłamy:

- a) islamu b) prawosławia c) protestantyzm

3. Miejsce kultu muzułmańskiego to:

- a) cerkiew b) meczet c) synagoga

4. Religia z której wywodzi się chrześcijaństwo to:

- a) islam b) judaizm c) prawosławie

5. Żydowska stela nagrobna, najczęściej pionowo ustawiona, prostokątna płyta kamienna lub drewniana, zakończona linią prostą, trójkątem lub półkolem to
- a) aron ha-kodesz b) kirkut c) macewa
6. Obraz sakralny, powstały w kręgu kultury bizantyńskiej wyobrażający postacie świętych, sceny z ich życia, sceny biblijne lub liturgiczno-symboliczne:
- a) ikona b) ikonostas c) pieta
7. W Allaha wierzą:
- a) wyznawcy islamu b) wierni kościoła ormiańskiego c) unicy

PTTK jako organizacja

Pytanie 15 [20 pkt.] test jednokrotnego wyboru

Zaznacz prawidłową odpowiedź:

1. Która z wymienionych osób otrzymała godność Członka Honorowego PTTK:
- a) Jan Paweł II b) Józef Glemp c) Tadeusz Isakowicz-Zaleski d) Jerzy Popiełuszko
2. Funkcję Prezesa PTTK pełni:
- a) Roman Bargieł b) Marek Staffa c) Lech Drożdżyński d) Andrzej Gordon
3. Organem odwoławczym od orzeczenia Sądu Koleżeńskiego oddziału PTTK jest:
- a) Zarząd tego oddziału b) Zarząd Główny PTTK
c) Główny Sąd Koleżeński d) Oddziałowa Komisja Rewizyjna
4. Czyje imię nosi Centralna Biblioteka PTTK w Warszawie:
- a) Kazimierza Kulwiecia b) Walerego Eliasza Radzikowskiego c) Błogosławionej Kingi d) Henryka Sienkiewicza
5. Członkiem Zarządu Oddziału Międzyuczelnianego PTTK w Warszawie nie jest:
- a) Daniel Kuligowski b) Karolina Pawlak c) Mieszko Janiszek d) Lech Rybienik

Pytanie 16 [16 pkt.] test wielokrotnego wyboru

Zaznacz prawidłową odpowiedź:

1. Której funkcji nie może jednocześnie pełnić prezes danego oddziału PTTK:
- a) Przewodniczący Sądu Koleżeńskiego tego oddziału b) Członek Zarządu Głównego PTTK
c) Członek Komisji Turystyki Narciarskiej tego oddziału d) Sekretarz Komisji Rewizyjnej tego oddziału
2. Władze naczelne PTTK stanowi:
- a) Główna Komisja Rewizyjna b) Kapituła Odznaczeń c) Członkowie wspierający PTTK d) Główny Sąd Koleżeński
3. Kadre PTTK stanowią zrzeszeni w PTTK:
- a) Przewodnicy Turystyki Górskiej b) Instruktorzy Ochrony Przyrody
c) Opiekunowie Przyrody d) Znakarze Szlaków Rowerowych
4. Które z obiektów noclegowych są prowadzone przez Oddział Międzyuczelniany PTTK w Warszawie?
- a) Schronisko PTTK Chatka Puchatka b) SBN Podwilk „Madejowe Łoże” c) SBN Łopienka d) Schronisko PTTK Markowe Szczawiny

Pytanie 17 [24 pkt.]

Wyjaśnij następujące skróty:

CFK	
KTP ZG PTTK	
AKT	
PTŻ	
IOnZ	
COTG	

Pytanie 18 [40 pkt.] (zwolnienie dla osób posiadających odznaki)

Wyjaśnij następujące skróty:

GOT	
JOTG	
KOT	
MOT	
OFK	
OInO	
OSTA	
TOK	
WOK	
WON	

Historia turystyki**Pytanie 19 [32 pkt.]**

a) W którym roku założono następujące organizacje [24 pkt.]

PTTK		TT		PTK	
------	--	----	--	-----	--

b) Rok 2009 obchodzony jest jako rok Mieczysława Karłowicza, dla upamiętnienia rocznicy jego tragicznej śmierci. Która to rocznica? [8 pkt.]

--

Pytanie 20 [28 pkt.] test jednokrotnego wyboru

W którym roku miały miejsce poniższe wydarzenia:

1. Utworzenie GOPR

a) 1873	b) 1908	c) 1952
---------	---------	---------
2. Powstanie AKT Lwów

a) 1893	b) 1902	c) 1906
---------	---------	---------
3. Wybudowanie pierwszego schroniska pod Morskim Okiem

a) 1874	b) 1906	c) 1935
---------	---------	---------
4. Powstanie Oddziału Międzyuczelnianego PTTK w Warszawie

a) 1893	b) 1947	c) 1960
---------	---------	---------

Pytanie 21 [40 pkt.] test jednokrotnego wyboru

Zaznacz prawidłową odpowiedź:

1. Mariusz Zaruski:
 - a) był założycielem Tatrzańskiego Ochotniczego Pogotowia Ratunkowego,
 - b) wyznakował „Orlą Perc”,
 - c) był założycielem Oddziału Międzyuczelnianego,
 - d) napisał „Pamiętniki czasów moich”.
2. Tzw. „Wojna na pędzle” toczyła się pomiędzy Towarzystwem Tatrzańskim i:
 - a) Polskim Związkiem Narciarskim,
 - b) Beskiden Verein,
 - c) Warszawskim Towarzystwem Cyklistów,
 - d) Alpine Club.
3. Praca „O ziemiórództwie Karpatów i innych gór i równin Polski”
 - a) powstała w 1950 roku,
 - b) jej autorem jest Stanisław Staszic,
 - c) jej autorem jest Stanisław Witkiewicz,
 - d) jej autorką jest Ilona Maroszek.
4. Bezpośrednią przyczyną założenia Tatrzańskiego Ochotniczego Pogotowia Ratunkowego:
 - a) był wzrost ruchu turystycznego w Beskidach,
 - b) było zakończenie I Wojny Światowej,
 - c) była uchwała Zarządu Głównego PTTK powołująca TOPR,
 - d) była śmierć Mieczysława Karłowicza.
5. Ochrona kozicy i świstaka była celem statutowym:
 - a) AKT Lwów,
 - b) OM PTTK w Warszawie,
 - c) TT,
 - d) TOPR.

6. Mieczysław Orłowicz był założycielem:
- PTTK,
 - Towarzystwa Karpackiego,
 - GOPR
 - AKT Lwów
7. Pierwszy klub górski powstaje w 1857 r. :
- w Anglii,
 - w Zakopanem,
 - w Hamburgu,
 - w Moskwie.
8. PTTK powstało z połączenia:
- AKT i TOPR,
 - PTK i PTT,
 - TW i TT,
 - SKPB i TT.
9. Polskie Towarzystwo Krajoznawcze założył:
- Aleksander Janowski,
 - Julian Ursyn Niemcewicz,
 - Jan Bachledda-Curuś,
 - Wincenty Pol.
10. Pierwszą polską organizacją studencką zajmującą się turystyką było:
- PTK,
 - TT,
 - SKPB Gliwice,
 - AKT Lwów.

Pierwsza pomoc

Pytanie 22 [48 pkt.] test wielokrotnego wyboru

- Podczas przygotowywania posiłku dla grupy jeden z uczestników wyjazdu skaleczył się w rękę, co zaskutkowało bardzo silnym krwotokiem.
 - natychmiast zaciskasz rękę poniżej skaleczenia i podnosisz ją do góry,
 - odkaszasz miejsce zranienia obficie polewając je wodą utlenioną,
 - silnie zaciskasz sznurówkę lub pasek poniżej miejsca skaleczenia,
 - zakładasz opatrunek z gazy, zwiniętego bandaża elastycznego oraz obwijasz miejsce skaleczenia bandażem.
- Uczestniczka wyjazdu w Tatry podczas wycieczki na Orlą Perc przewraca się na skale, co skutkuje silnym bólem przedramienia, opuchlizną oraz wyraźnym zniekształceniem ręki.
 - podajesz środek przeciwbólowy,
 - sprowadzasz grupę wraz z kontuzjowaną uczestniczką do najbliższego schroniska,
 - unieruchamiasz rękę zakładając temblak,
 - zatrzymujesz grupę w bezpiecznym miejscu i wzywasz TOPR.

3. Podczas pobierania wody ze studni w chatce studenckiej uczestnik wyjazdu zostaje silnie uderzony w głowę żurawiem. Po uderzeniu uskarża się na ból głowy, ma zaburzenia równowagi.
 - a. podajesz środek przeciwbólowy,
 - b. kładziesz go spać,
 - c. nie pozwalasz mu zasnąć,
 - d. natychmiast kontaktujesz się z lekarzem.
4. Uczestnikowi wyjazdu rowerowego podczas jazdy wpadła mucha do oka.
 - a. odkażasz oko spirytusem,
 - b. przepłukujesz oko solą fizjologiczną,
 - c. wyjmujesz muchę rogiem chusteczki,
 - d. wywijasz powiekę na zapałce i wyjmujesz muchę.
5. Prowadząc jesienny wyjazd klubowy pobłądziłeś we mgle i z przemoczoną, zmarzniętą grupą dotarłeś do schroniska późnym wieczorem, po kilku godzinach i kilkunastu kilometrach nadprogramowego marszu. Ponieważ planowana była dużo krótsza wycieczka i obiad w schronisku ostatni posiłek jedliście w południe, bo na późniejszą wędrówkę nie posiadaliście jedzenia.
 - a. dbasz o to, żeby wszyscy uczestnicy wyjazdu się umyli i położyli spać w suchych, czystych ubraniach.
 - b. podajesz wszystkim uczestnikom wyjazdu gorącą czekoladę lub bardzo słodką, gorącą herbatę,
 - c. pozwalasz uczestnikom, którzy są najbardziej zmęczeni położyć się spać bez kolacji,
 - d. skracasz trasę następnego dnia.
6. Po całodniowej wycieczce po połoninach bieszczadzkich w upalny dzień uczestnik wyjazdu uskarża się na ból i zawroty oraz nudności.
 - a. podajesz mu dużo płynów
 - b. podajesz mu leki przeciwbólowe
 - c. przenosisz go w zacienione, chłodne miejsce
 - d. skracasz trasę następnego dnia

Pytanie 23 [20 pkt.]

Wybierz cztery z opisanych powyżej sytuacji i opisz w jaki sposób należy im przeciwdziałać.

Sytuacja	Przeciwdziałanie

Pytanie 24 [32 pkt.]

Razem z uczestnikami wyjazdu stacjonarnego wybieracie się w sierpniowy dzień na wycieczkę jednodniową na Połoninę Wetlińską. Wymień 8 najważniejszych rzeczy, które polecisz zabrać każdemu z uczestników.

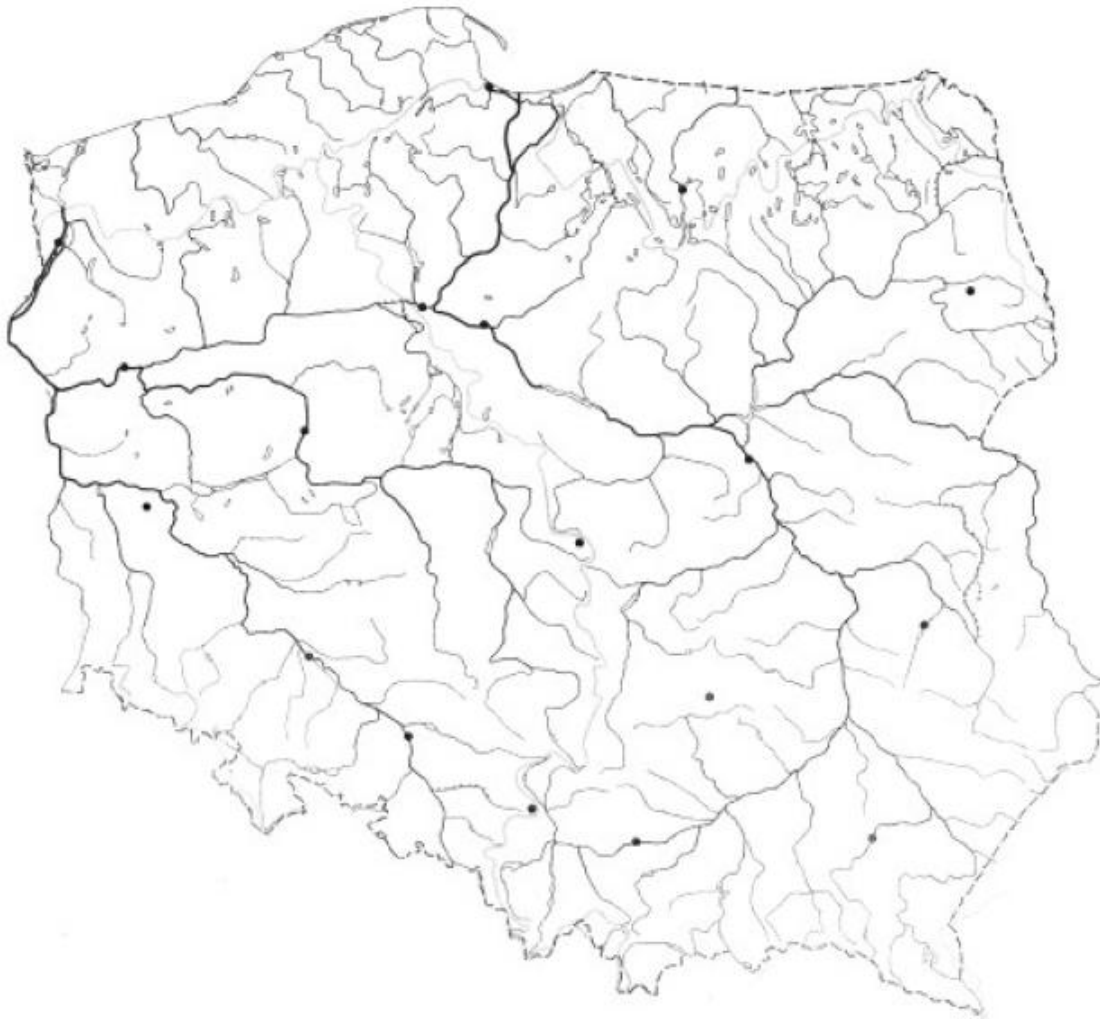
Geografia Turystyczna Polski**Pytanie 25 [36 pkt.]**

Przyporządkuj danym miejscowościom/obiektom z tabeli A ich opisy z tabeli B

1	Sanok	
2	Karpacz	
3	Łańcut	
4	Ciechocinek	
5	Łowicz	
6	Bełchatów	
7	Ogrodzieniec	
8	Solina	
9	Grabarka	
10	Gierłoż	
11	Frombork	
12	Pelplin	
13	Jezioro Śniardwy	
14	Jezioro Hańcza	
15	Jędrzejów	
16	Ujazd	
17	Złoty Stok	
18	Malbork	

A	Zapora wodna
B	Miasto z trójkątnym rynkiem
C	Święta góra prawosławia
D	Miejsce gdzie swoje badania prowadził Mikołaj Kopernik
E	Kościół z najwyższym ołtarzem w Polsce
F	Największe jezioro Polski
G	Muzeum zegarów i przyrządów astronomicznych
H	Krzyżtopór, Zamek-kalendarz
I	Muzeum powozów
J	Muzeum Budownictwa Ludowego
K	Uzdrowisko z tężniami solankowymi
L	Odkrywkowa kopalnia węgla
M	Miasto ze Świątynią Wang
N	Najgłębsze jezioro Polski
O	Wilczy Szaniec, była kwatery A. Hitlera
P	Kopalnia złota
R	Zamek Krzyżacki
S	Zamek na Szlaku Orlich Gniazd, mocno związany z A. Janowskim

Pytanie 26 [40 pkt.]



Zaznacz na podanej mapie Polski położenie **dwudziestu** wybranych z poniższej listy miejsc:

1	Olsztyn	14	Zagórz
2	Zamość	15	Łódź
3	Święta Lipka	16	Ogrodzieniec
4	Reszel	17	Święty Krzyż
5	Wyspa Wolin	18	Bełchatów
6	Gniew	19	Solina
7	Kazimierz Dolny	20	Częstochowa
8	Sandomierz	21	Biskupin
9	Toruń	22	Szczyrk
10	Grunwald	23	Hajnówka
11	Zamość	24	Poznań
12	Gniezno	25	Augustów
13	Pieskowa Skała	26	Karpacz

Pytanie 27 [10 pkt.]

Wymień 5 obiektów leżących na terenie Polski, znajdujących się na liście światowego dziedzictwa UNESCO.

Pytanie 28 [14 pkt.]

Wymień 7 szczytów Korony Gór Polski i napisz w jakich pasmach górskich się one znajdują

	Szczyt	Pasma górskie
1		
2		
3		
4		
5		
6		
7		

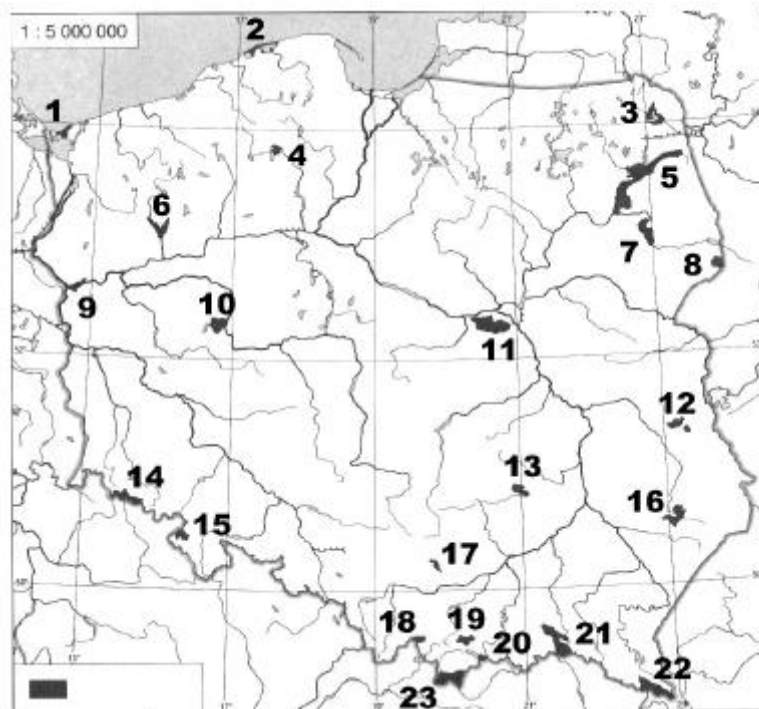
Ochrona przyrody**Pytanie 29 [30 pkt.]**

a) Podaj 3 przykłady sytuacji, w których można poruszać się po parku narodowym (18 pkt)

b) Podaj 4 przykładowe przyczyny zakazu wstępu do lasu (lub jego fragmentu) (12 pkt)

Pytanie 30 [46 pkt.]

Podaj nazwy zaznaczonych na mapie parków narodowych



1		13	
2		14	
3		15	
4		16	
5		17	
6		18	
7		19	
8		20	
9		21	
10		22	
11		23	
12			

Pytanie 31 [12 pkt.]

Scharakteryzuj krótko (w czterech zdaniach) wybrany polski park narodowy - ukształtowanie terenu, roślinność, fauna, atrakcje turystyczne.

--

Pytanie 32 [12 pkt.]

Z podanych definicji (na podstawie obowiązującej Ustawy o ochronie przyrody) wybierz tę, która opisuje park narodowy (zakreśl odpowiedni numer)

- 1) obszar umożliwiający migrację organizmów żywych
- 2) obszar chroniony ze względu na walory przyrodnicze, historyczne, kulturowe i krajobrazowe w celu ich zachowania i popularyzacji w warunkach zrównoważonego rozwoju
- 3) obszar krajobrazu naturalnego i kulturowego zasługujący na ochronę ze względu na walory widokowe lub estetyczne
- 4) tworzony dla ochrony przyrody nieożywionej (formacji geologicznych, nagromadzeń skamieniałości)
- 5) obszar wyróżniający się szczególnymi wartościami przyrodniczymi, naukowymi, społecznymi, kulturowymi i edukacyjnymi, o powierzchni nie mniejszej niż 1 000 ha, na którym ochronie podlega cała przyroda oraz walory krajobrazowe

Zagadnienia prawne w turystyce**Pytanie 33 [47 pkt.]**

a) Jakie informacje powinno zawierać zgłoszenie imprezy w OM PTTK? Wymień 5. [20 pkt.]

--	--	--	--	--

b) Jakie informacje powinno zawierać rozliczenie imprezy w OM PTTK? Wymień 3. [12 pkt.]

--	--	--

c) Wymień 3 warunki jakie musi spełniać wolontariusz OM PTTK, aby mógł organizować imprezy? [15 pkt.]

--	--	--

Pytanie 34 [30 pkt.] test jednokrotnego wyboru

1. Kto objęty jest ubezpieczeniem NNW na wyjazdach organizowanych przez Oddział Międzyuczelniany PTTK w Warszawie?
 - a) Każdy uczestnik imprezy
 - b) Każdy uczestnik imprezy o ile jest członkiem PTTK
 - c) Wyłącznie kadra i organizatorzy
 - d) Wyłącznie członkowie Zarządu Oddziału

2. Na której z wymienionych imprez nie obowiązuje ubezpieczenie OC?
- a) Spływ kajakowy na Litwie
b) Wycieczka architektoniczna po Lwowie
c) Wycieczka kolarska podnóżami Tatr Słowackich
d) Wycieczka piesza górską po Rile (Bułgaria)
3. Jaki dokument uprawnia obywateli polskich do przekraczania granicy ze Słowacją?
- a) Paszport
b) Legitymacja studencka
c) Legitymacja przewodnicka
d) Prawo jazdy
4. W jakim przypadku w Strefie Schengen nie można przekroczyć granicy państwowej?
- a) Po zmroku
b) Gdy nie znajdujemy się na przejściu granicznym
c) Jeżeli przepisy danego kraju stanowią inaczej (np. parki narodowe, rezerваты)
d) Jeżeli nie poinformowaliśmy Straży Granicznej
5. Kto nie może kontrolować biletów w pociągu?
- a) SOK
b) Rewizor
c) Konduktor
d) Policjant
6. Który z funkcjonariuszy (umundurowany, czy nieumundurowany) Straży Granicznej jest obowiązany na życzenie obywatela do okazania legitymacji służbowej?
- a) Wyłącznie umundurowany
b) Wyłącznie nieumundurowany
c) Żaden
d) Obaj

Pytanie 35 [23 pkt.]

Prowadzisz wycieczkę w ramach działalności Oddziału Międzyuczelnianego PTTK. Podczas prowadzenia wycieczki na szlaku w Pienińskim Parku Narodowym na szczyt Trzy Korony (982 m npm) umundurowany strażnik Parku Narodowego żąda od Ciebie okazania legitymacji przewodnika górskiego. Opisz krótko jak się zachowasz.

Terenoznawstwo

Pytanie 36 [42 pkt]

- a) Ilu centymetrom na mapie o zadanej skali odpowiada 12 km w terenie? [6 pkt.]

1:40 000	<input type="text"/>	1:200 000	<input type="text"/>
----------	----------------------	-----------	----------------------

- b) Ilu kilometrom w terenie odpowiada 8 cm na mapie o podanej skali? [6 pkt.]

1:125 000	<input type="text"/>	1:50 000	<input type="text"/>
-----------	----------------------	----------	----------------------

- c) Narysuj strzałkę w odpowiednim kierunku, przyjmując, że północ jest w kierunku góry kartki [12 pkt.]

S	<input type="text"/>	W	<input type="text"/>
NE	<input type="text"/>	SE	<input type="text"/>

b) Podaj 3 sposoby odnalezienia północy w terenie bez użycia kompasu ani innych urządzeń służących do nawigacji [18 pkt.]

Pytanie 37 [16 pkt.]

Ułóż we właściwej kolejności czynności dokonywane przy ustaleniu kierunku marszu za pomocą kompasu

	Rozpocząć marsz w kierunku wyznaczonym przez strzałkę kierunku marszu na kompasie
	Przyłożyć kompas do mapy, żeby strzałka kierunku marszu na kompasie była zgodna z planowanym kierunkiem marszu na mapie
	Kompas ustawiony w pozycji pionowej ułożyć tak, żeby 0 (zero) stopni na skali pierścieni pokrywało się z północą w rzeczywistości, wyznaczoną przez czerwony koniec igły
	Przekręcić pierścień kompasu tak, żeby 0 (zero) stopni na skali pierścieni pokrywało się z północą na mapie

Pytanie 38 [42 pkt.]

a) Korzystając z załączonej poniżej mapy odpowiedz na poniższe pytania: [24 pkt.]

Podaj nazwę grzbietu górskiego, na którym znajduje się schronisko PTTK oraz wysokość najwyższego punktu na tym grzbiecie	
Podaj co najmniej dwie możliwości przenocowania (rodzaj obiektu, lokalizacja), inne niż schronisko PTTK wymienione w poprzednim pytaniu	
Podaj nazwę miejscowości, w której znajduje się najstarszy obiekt sakralny spośród wszystkich widocznych na wycinku oraz datę powstania tego obiektu.	
Zaznacz na mapie przebieg co najmniej 3 grzbietów górskich	

b) Podaj odległość (w km) oraz sumę podejść (w m), które pokonamy idąc z Przełęczy Małastowskiej na Przełęcz Owczarską [18 pkt.]

--	--